

**SERVIÇO PÚBLICO FEDERAL  
CONSELHO REGIONAL DE ENGENHARIA E AGRONOMIA DE GOIÁS**

**CONCURSO PÚBLICO – EDITAL CREA-GO Nº 03/2014**

**ASSISTENTE ADMINISTRATIVO – 40 HORAS**

Nº de Inscrição: \_\_\_\_\_

Nome: \_\_\_\_\_

Assinatura: \_\_\_\_\_

**INSTRUÇÕES**

**1. GENERALIDADES**

- 1.1 Aguarde a ordem para abertura da prova.
- 1.2 Não se comunique, em hipótese alguma com outros candidatos.
- 1.3 Não é permitida a consulta a apontamentos, livros ou dicionários.
- 1.4 Verifique se esta prova contém 50 questões.

**2. TIPO DE APRESENTAÇÃO DAS PROVAS**

- 2.1 Questões de múltipla escolha, com até 05 alternativas, cuja resposta se obtém assinalando a alternativa correta ou incorreta, de acordo com o assunto abordado na questão e transportando os resultados para o Cartão-resposta.
- 2.2 Lembre-se de assinalar o resultado no Cartão-resposta.

**3. CARTÃO-RESPOSTA**

- 3.1 Em nenhuma hipótese serão distribuídas duplicatas dos Cartões-respostas, que são numerados e assinalados mecanicamente antes do início das provas.
- 3.2 NÃO DEIXAR A ASSINATURA SAIR DO RETÂNGULO DESTINADO A ESSE FIM.**

**4. TÉRMINO DA PROVA**

- 4.1 Não serão consideradas respostas assinaladas no Caderno de provas.
- 4.2 Devolver o Cartão resposta aos fiscais.

## LINGUA PORTUGUESA

Leia o texto abaixo:

### **Servidores da Funai morreram ao tentar contato com índios isolados na Amazônia**

A imensidão do Brasil revela que existem regiões que não foram desbravadas e que mantêm até hoje povos que habitavam o solo nacional, antes da chegada das caravelas de Pedro Álvares Cabral. Na Terra Indígena Vale do Javari, na fronteira do Brasil com o Peru e Colômbia, por exemplo, existem entre 2 mil e 3 mil índios que nunca tiveram contato com homens de outras etnias. O vale tem 8,5 milhões de hectares, sendo considerado o maior mosaico visual de referências indígenas isoladas do mundo.

Nos últimos 15 anos, nove servidores da Fundação Nacional do Índio (Funai) morreram tentando contato com tribos isoladas na região. Atualmente, a luta que ocorre diariamente é para preservar o direito dos índios de permanecer no isolamento. A região tem mais de dez mil índios contatados e 16 referências de índios isolados, sendo nove confirmadas.

Segundo o coordenador regional da Funai, Bruno Pereira, a política de acabar com os contatos com grupos isolados partiu da experiência de indigenistas, funaianos e sertanistas, que, ao longo de 120 anos de indigenismo de Estado, comprovaram que a aproximação era feita sem o cuidado devido e somente os índios se prejudicavam. O principal dano eram as doenças contagiosas, que quase levaram etnias à extinção, como aconteceu com os matis, também chamados de matsés, etnia reduzida a menos da metade, em apenas dois anos.

O último grupo contatado foi da etnia korubo, em 2003. Atualmente, o grupo de korubos tem 29 índios. Conhecidos como caceteiros da Amazônia, eles mataram alguns madeireiros que invadiram a mata, em busca de madeira, e que queriam expulsar os índios do próprio território. Três índios korubos morreram no confronto, o que fez com que eles se aproximassem de algumas comunidades na região de Atalaia do Norte, a 1 138 quilômetros de Manaus. A Funai foi acionada para tentar acabar com o confronto.

(Extraído de: [www.acritica.uol.com.br](http://www.acritica.uol.com.br).)

### **QUESTÃO 01**

Uma das funções da partícula *que* é a de conjunção integrante, podendo, por exemplo, introduzir uma oração com valor de objeto direto. Das cinco ocorrências do *que*, no primeiro parágrafo, a única que tem essa característica é a do trecho

- A) ( ) que não foram desbravadas.
- B) ( ) que existem regiões.
- C) ( ) que mantêm até hoje povos.
- D) ( ) que nunca tiveram contato.
- E) ( ) que habitavam o solo nacional.

Leia o poema abaixo para responder a próxima questão:

### OS CAMELÔS

Abençoado seja o camelô dos brinquedos de tostão:  
O que vende balõezinhos de cor  
O macaquinho que trepa no coqueiro  
O cachorrinho que bate com o rabo  
Os homenzinhos que jogam boxe  
A perereca verde que de repente dá um pulo que engraçado  
E as canetinhas-tinteiro que jamais escreverão coisa alguma  
Alegria das calçadas.  
Uns falam pelos cotovelos:  
- “O cavalheiro chega em casa e diz: ‘Meu filho, vai buscar um pedaço  
de banana para eu acender o charuto.’ Naturalmente o menino pensará:  
“Papai está malu...”  
Outros, coitados, têm a língua atada.  
Todos, porém, sabem mexer nos cordéis com o tino ingênuo de demiurgos  
de inutilidades.  
E ensinam no tumulto das ruas os mitos heroicos da meninice...  
E dão aos homens que passam preocupados ou tristes uma lição de infância.

Manuel Bandeira

### QUESTÃO 02

*Canetinhas-tinteiro* é um vocábulo cuja formação de plural se processa do mesmo modo que em:

- A) ( ) tenente-coronel;
- B) ( ) terça-feira;
- C) ( ) afro-asiático;
- D) ( ) árvore-anã;
- E) ( ) laranja-pera.

Observe a charge:



Folha de São Paulo, 05/03/2014.

### QUESTÃO 03

A disposição dos manifestantes contrasta com a atitude do homem de terno e gravata.

Essa atitude, no que diz respeito ao uso da linguagem, caracteriza-se por:

- A)  falsa indignação.
- B)  pouca formalidade.
- C)  clara agressividade.
- D)  muita subjetividade.
- E)  n.d.a.

#### **QUESTÃO 04**

O sentido da charge se constrói a partir da ambiguidade de determinado termo.

O termo em questão é:

- A)  fora.
- B)  agora.
- C)  sistema.
- D)  protestar.
- E)  basta.

#### **QUESTÃO 05**

Assinale a frase correta quanto à concordância verbal e nominal.

- A)  Segue, anexo, ata da reunião ordinária do Conselho Superior de 02 de maio de 2012 da Fundação Coelho Pitanga a ser analisada e após fazer todas as considerações pelos membros do conselho que acharem necessárias irei em busca das respectivas assinaturas dos conselheiros presentes.
- B)  Esse profissional deve ficar responsável pela elaboração das escalas de trabalho semanais e sua manutenção, comunicação interna e externa, agendamento de compromissos da coordenação e da equipe em geral, registro e acompanhamento de assiduidade e demais tarefas que envolvam questões administrativas.
- C)  Não será esquecido estes dois dias para quem pode estar nos dois encontros ou reencontros.
- D)  No elenco, chamam a atenção também a presença de modelos, de uma bailarina e de uma dançarina.
- E)  É deveres de todos cumprir a mandato.

Leia o poema abaixo e responda a próxima questão:

Brasil

O Zé Pereira chegou de caravela  
E perguntou pro guarani da mata virgem  
– Sois cristão?  
– Não. Sou bravo, sou forte, sou filho da Morte  
Teterêtetê Quizá QuizáQuecê!  
Lá longe a onça resmungava Uu! ua! uu!  
O negro zonzo saído da fornalha  
Tomou a palavra e respondeu  
– Sim pela graça de Deus  
Canhem Babá Canhem Babá Cum Cum!  
E fizeram o Carnaval

Oswald de Andrade

#### **QUESTÃO 06**

O elemento do Texto que apresenta a mesma função sintática do termo “zonzo” (verso 07) é:

- A)  de caravela (verso 1).

- B) ( ) pro guarani (verso 2).
- C) ( ) da mata virgem (verso 2).
- D) ( ) da fornalha (verso 7).
- E) ( ) pela graça de Deus (verso 9) .

### QUESTÃO 07

Nas orações a seguir:

- I. No trabalho, use equipamento de proteção.
- II. Júlio, no clube, falaram mal de você.
- III. Vendeu-se a pá.

O sujeito é, respectivamente:

- A) ( ) simples, simples, simples.
- B) ( ) oculto, simples, simples.
- C) ( ) indeterminado, indeterminado, simples.
- D) ( ) oculto, indeterminado, simples.
- E) ( ) oculto, indeterminado, indeterminado.

### QUESTÃO 08


Observe o início do Hino Nacional Brasileiro:

Ouviram do Ipiranga as margens plácidas  
De um povo heroico o brado retumbante...

Na oração acima, o sujeito é:

- A) ( ) indeterminado.
- B) ( ) um povo heroico.
- C) ( ) inexistente.
- D) ( ) as margens plácidas do Ipiranga.
- E) ( ) o brado retumbante.

Observe os textos e as imagens abaixo:



Dar mais atenção a você é uma prioridade do Ministério da Saúde, mas é um compromisso que você também deve ter principalmente quem tem pressão alta. Se você é hipertenso, evite sal na comida. É importantíssimo uma alimentação saudável. Não fume, controle o seu peso e a taxa

de colesterol. Façaacompanhamento periódico e pratique atividade física regularmente, mas nuncasem consultar um médico. Os postos de saúde estão prontos para atendervocê.



### QUESTÃO 09

“HIPERTENSO, ALÉM DO MINISTÉRIO DA SAÚDE, OUTROS ÓRGÃOS TAMBÉM SE PREOCUPAM COM VOCÊ.”

Com base no fragmento acima, assinale a afirmativa INCORRETA:

- A) ( ) O termo “hipertenso” tem a função comunicativa de interpelar alguém.
- B) ( ) O termo “hipertenso” além de interpelar alguém funciona também como sujeito da sentença.
- C) ( ) Os termos “além do” e “também” funcionam como elementos que adicionam informações à ideia central.
- D) ( ) O termo “você” é usado para envolver e interpelar diretamente o leitor do texto.
- E) ( ) O termo “órgãos” tem sentido diferente do que em “Esses órgãos são responsáveis por intermediar as relações entre os países.”

### QUESTÃO 10

Assinale a alternativa falsa em relação ao períodoabaixo e aos seus termos:

“No futebol brasileiro houve época em que nãoexistia grande jogador.”

- A) ( ) O substantivo *época* é o sujeito do verbo haver.
- B) ( ) O período é composto por subordinação e consta de duas orações.
- C) ( ) Os adjetivos constantes do período funcionam como adjunto adnominal.
- D) ( ) O substantivo *futebol* exerce a mesma função sintática do pronome relativo *que*.
- E) ( ) O substantivo *jogador* é o sujeito do verbo existir.

## MATEMÁTICA

### QUESTÃO 11

Um salão foi construído de forma retangular com dimensões 50 m e 30 m. A maior distância que uma pessoa pode andar em linha reta dentro deste salão é:

- A) ( )  $10\sqrt{34}$  m.
- B) ( )  $13\sqrt{34}$  m.
- C) ( )  $15\sqrt{34}$  m.
- D) ( )  $17\sqrt{34}$  m.
- E) ( )  $12\sqrt{34}$  m.

### QUESTÃO 12

Na empresa de táxi do seu André havia um movimento mensal de 4.500 passageiros transportados. Devido ao preço alto do combustível, houve um aumento de tarifas e o movimento diminuiu 15%. Pode-se afirmar que a empresa de táxi do seu André transporta agora:

- A) ( ) 3.825 passageiros.
- B) ( ) 3.842 passageiros.
- C) ( ) 3.848 passageiros.
- D) ( ) 3.850 passageiros.
- E) ( ) 3.852 passageiros.

### QUESTÃO 13

Numa fábrica de automóveis são produzidos quatro modelos diferentes de carros : A, B, C e D.

Os modelos de carros A e B são fabricados com dois tipos de carrocerias: fechada e conversível. Os modelos de carros C e D podem ser fechados, conversíveis, pick-ups e utilitários. Além disso, todos os modelos de carros são fabricados em sete cores diferentes.

Para comprar um carro o cliente tem à sua disposição:

- A) ( ) 80 possibilidades.
- B) ( ) 82 possibilidades.
- C) ( ) 84 possibilidades.
- D) ( ) 85 possibilidades.
- E) ( ) 87 possibilidades.

### QUESTÃO 14

Um comerciante paga para seu empregado um salário fixo de R\$ 500,00 mais R\$ 10,00 cada vez que uma unidade do produto com o qual trabalha é vendida. A expressão que mostra a relação entre as unidades vendidas e o salário do empregado é:

- A) ( )  $y = 500 - 10x$ .
- B) ( )  $y = 500 + 10x^2$ .
- C) ( )  $y = 500 - 10x^2$ .
- D) ( )  $y = 500 + 10x$ .
- E) ( )  $y = 500x + 10x^2$ .

### QUESTÃO 15

Um taxista recebe R\$ 4,00 pela bandeirada e mais R\$ 1,40 por quilômetro rodado. Se o taxista quiser ganhar pelo menos R\$ 60,00 em uma única rodada, ele precisa percorrer:

- A) ( ) 40 km ou mais.
- B) ( ) menos que 40 km.
- C) ( ) 39 km.
- D) ( ) 39 km ou mais.
- E) ( ) 38 km.

### QUESTÃO 16

Da cobertura de um edifício a 50 metros do chão caiu um vaso. Sabendo que a distância percorrida pelo vaso em relação ao chão pode ser calculada em cada momento por  $d(t) = 50 - 5t^2$ . Podemos afirmar que o vaso levou para atingir o solo:

- A) ( ) 5 seg.



- B) ( )  $\sqrt{5}$  seg.
- C) ( )  $\sqrt{10}$  seg.
- D) ( ) 10 seg.
- E) ( ) 15 seg.

### QUESTÃO 17

Paulo tem uma tela de arame com 28 metros de comprimento para cercar um terreno retangular de modo que a área seja máxima. Paulo fez os cálculos e descobriu que a área desse terreno será máxima se:

- A) ( ) O retângulo tiver lados medindo 4m e 7m.
- B) ( ) O retângulo tiver lados medindo 14m e 2m.
- C) ( ) O retângulo for um quadrado de lado 4 m.
- D) ( ) O retângulo for um quadrado de lado 7m.
- E) ( ) O retângulo tiver lados medindo 14 m e 2m.

### QUESTÃO 18

Um ciclista fazendo seu treinamento percorre 7 km na direção norte; depois 8 km na direção leste e finalmente 1 km na direção sul. A distância entre os pontos inicial e final é de:

- A) ( ) 12km.
- B) ( ) 11km.
- C) ( ) 10km.
- D) ( ) 13km.
- E) ( ) 15km.

### QUESTÃO 19

Uma escada está apoiada numa parede num ponto a 5m do solo. Sabendo que o comprimento dessa escada é de 10 m, podemos afirmar que o ângulo formado pela escada e o solo é de:

- A) ( ) 30°.
- B) ( ) 45°.
- C) ( ) 60°.
- D) ( ) 90°.
- E) ( ) 120°.

### QUESTÃO 20

Fazendo uso da calculadora, um estudante observou que, ao colocar um certo valor e apertar a tecla log por três vezes seguidas, curiosamente obtinha como resultado zero. Então o valor colocado na calculadora pelo estudante é:

- A) ( ) 10.
- B) ( )  $10^2$ .
- C) ( )  $10^3$ .
- D) ( )  $10^5$ .
- E) ( )  $10^{10}$ .

## INFORMÁTICA BÁSICA

### QUESTÃO 21

Em relação ao Word podemos dizer:

- A) ( ) É um aplicativo da Microsoft responsável pelo gerenciamento de arquivos.
- B) ( ) É um aplicativo da Microsoft responsável pelo gerenciamento de Tabelas e arquivos.doc.



- C) ( ) É um aplicativo da Microsoft para criação de textos, documentos, páginas da Internet e arquivos JPG.
- D) ( ) É um aplicativo da Microsoft para criação de textos, documentos e tabelas.
- E) ( ) É um dos aplicativos do pacote Office específico para montagem de apresentações.





### QUESTÃO 22

Quais comandos devemos utilizar para definir no WORD 2010 o local padrão dos arquivos?

- A) ( ) Clicar na guia ARQUIVO, depois em OPÇÕES e depois em SALVAR.
- B) ( ) Clicar na guia ARQUIVO e em SALVAR.
- C) ( ) Clicar na guia ARQUIVO, depois em SALVAR e em LOCAL PADRÃO DO ARQUIVO.
- D) ( ) Clicar na guia ARQUIVO e depois em SALVAR COMO.
- E) ( ) Clicar em SALVAR e depois em LOCAL PADRÃO.

### QUESTÃO 23

A finalidade dos ícones no Word é:

- A) ( )  – inserir número.
- B) ( )  – inserir subscrito.
- C) ( )  – elevar o número ao quadrado.
- D) ( )  - inserir tachado.
- E) ( ) Os itens (b) e (d) estão corretos.

### QUESTÃO 24

Em relação ao Excel podemos dizer:

- A) ( ) É um aplicativo da Microsoft responsável pelo gerenciamento de tabelas e mala direta.
- B) ( ) É um aplicativo da Microsoft responsável pela criação de planilha, que pode ser exportado para os aplicativos Word, PowerPoint e Access.
- C) ( ) É um aplicativo da Microsoft para criação de tabelas; planilhas e páginas da Internet com planilhas.JPG.
- D) ( ) É um aplicativo da Microsoft para criação de planilhas, arquivos .doc e tabelas.
- E) ( ) Fórmulas no Excel são preparadas para interpretar e executar apenas operações numéricas e aritméticas.

### QUESTÃO 25

Assinale a expressão correta no Excel:

- A) ( )  $A1 = B1 + C1 - D2 > 5$
- B) ( ) Soma (A1:B1:D3) – Soma (7; 8; A1: D1)
- C) ( ) Se ( A1<< B1; “O conteúdo de A é menor”; “O conteúdo de A é maior”)
- D) ( ) Se ( A1<>B1; “O conteúdo de A é diferente de B”; “A é igual a B”)
- E) ( )  $(A1+B2(D7*14) - A2 / 7$

### QUESTÃO 26

Para fazer um cálculo exponencial utilizando o Excel, qual dos símbolos devemos usar?

- A) ( ) %
- B) ( ) {
- C) ( ) ^
- D) ( ) \$
- E) ( ) \*\*

### QUESTÃO 27

Em relação aos sistemas operacionais, podemos dizer:

- A) ( ) É um programa que tem a finalidade de fazer a interface de comunicação entre o homem e a máquina, controlar os usuários, criar arquivos, tabelas e pastas.
- B) ( ) Faz a interface de comunicação entre homem/máquina, cria pastas e atalhos e gerencia arquivos.
- C) ( ) É um programa responsável pela criação de pastas, arquivos e e-mail.
- D) ( ) Gerencia todos os aplicativos, como e-mail, internet, intranet e login.
- E) ( ) Desfragmenta os dispositivos de armazenamento de dados como: HD, Pen Drive, CD/R e DVD/W.

### QUESTÃO 28

No Windows 7, quais dos itens fazem parte da Barra de Tarefa?

- A) ( ) O botão Iniciar, área de notificação e Gadgest.
- B) ( ) A área de notificação, barra de ferramentas, Início Rápido e Gadgets.
- C) ( ) O botão Iniciar, a área de notificação, barra de ferramentas e Início Rápido.
- D) ( ) A barra de ferramentas, Início Rápido e Gadgets.
- E) ( ) Os Gadgets e o botão iniciar

### QUESTÃO 29

Marque a alternativa correta:

- A) ( ) Para centralizar um título no Word, basta pressionar o botão centralizar na barra de Ferramentas.
- B) ( ) Os alinhamentos possíveis em uma página do Word são: alinhamento superior, inferior, direita e esquerda.
- C) ( ) Quando estamos editando uma tabela no Word, os alinhamentos possíveis são: superior e inferior.
- D) ( ) Os alinhamentos possíveis em uma página do Word são: superior, inferior, direita, esquerda e centralizada.
- E) ( ) Os alinhamentos possíveis no Word são: à esquerda, à direita, centralizado e justificado.

### QUESTÃO 30

Qual o endereço de Internet é válido.

- A) ( ) www\\Infocol@edu\br
- B) ( ) httpd:\\www.ufg.br
- C) ( ) http:\\www.fifa.org
- D) ( ) http://www.mec.gov.br
- E) ( ) https\\:www.ufcg.edu.br

## LEGISLAÇÃO BÁSICA CONFEA/CREA

### QUESTÃO 31

O prazo para as pessoas jurídicas comunicarem ao CREA as alterações efetuadas no seu quadro técnico ou na atividade de seus profissionais é de:

- A) ( ) 5 dias.
- B) ( ) 10 dias.
- C) ( ) 15 dias.
- D) ( ) 30 dias
- E) ( ) 20 dias.

### QUESTÃO 32

Ao profissional do CREA com registro interrompido:

- A) ( ) será negada a solicitação de Certidão de Acervo Técnico – CAT.
- B) ( ) será facultativa a solicitação de Certidão de Acervo Técnico – CAT.
- C) ( ) será negada a Certidão de Acervo Técnico – CAT.
- D) ( ) será permitido o direito à Certidão de Acervo Técnico – CAT, durante o período de interrupção do registro.
- E) ( ) não haverá acesso à Certidão de Acervo Técnico – CAT.

### QUESTÃO 33

A cassação do direito ao exercício da profissão, com cancelamento do registro no CREA, se dará na seguinte hipótese:

- A) ( ) inadimplência da anuidade do CREA durante dois anos consecutivos.
- B) ( ) decisão da turma profissional a que se subsume o profissional.
- C) ( ) reincidência, por três vezes consecutivas, de infração, pelo profissional.
- D) ( ) má conduta profissional.
- E) ( ) insolvência civil ou inscrição em órgãos de proteção ao crédito.

### QUESTÃO 34

O auto de infração:

- A) ( ) é o ato processual que finaliza o processo administrativo, lavrado por agente fiscal.
- B) ( ) é ato preparatório para aplicação de penalidade pecuniária e cassação do registro profissional.
- C) ( ) é ato interno que poderá ser realizado *ex-officio* por qualquer funcionário do CREA.
- D) ( ) é ato processual que finaliza o procedimento administrativo, lavrado pelo presidente do CREA ou com seu conhecimento.
- E) ( ) é ato processual que instaura o processo administrativo, lavrado por agente fiscal, funcionário do CREA, designado para tal fim.

### QUESTÃO 35

O prazo para apresentação de defesa do auto de infração, contado da data de seu recebimento pelo autuado, é de:

- A) ( ) 30 dias.
- B) ( ) 20 dias.
- C) ( ) 10 dias.
- D) ( ) 15 dias.
- E) ( ) 5 dias.

### QUESTÃO 36

O autuado que não apresentar defesa à Câmara especializada:

- A) ( ) será intimado para apresentar nova defesa.
- B) ( ) terá profissional pertencente ao CREA nomeado como defensor dativo.
- C) ( ) será multado pela falta de defesa.
- D) ( ) será julgado à revelia.
- E) ( ) será intimado por Edital.

### QUESTÃO 37

A prescrição da ação punitiva do sistema CONFEA/CREA, no exercício do Poder de Polícia, em processos administrativos que objetivem apurar infração à legislação em vigor, contando-se da data de prática do ato ou, em caso de infração permanente ou continuada, do dia que tiver cessado, ocorrerá em:

- A) ( ) 20 anos.
- B) ( ) 10 anos.
- C) ( ) 5 anos.
- D) ( ) 2 anos.
- E) ( ) 3 anos.

### QUESTÃO 38

O cancelamento da Anotação de Responsabilidade Técnica (ART) ocorrerá quando houver:

- A) ( ) contrato não executado.
- B) ( ) inadimplência do profissional.
- C) ( ) término do contrato.
- D) ( ) alteração do contrato.
- E) ( ) execução das atividades técnicas.

### QUESTÃO 39

O prazo para apresentação do rol de testemunhas, em instrução de processo ético disciplinar do CREA, será de:

- A) ( ) 5 dias antes da audiência.
- B) ( ) 10 dias antes da audiência.
- C) ( ) 30 dias antes da audiência.
- D) ( ) 20 dias antes da audiência.
- E) ( ) 15 dias antes da audiência.

### QUESTÃO 40

É vedado ao estrangeiro:

- A) ( ) diplomar-se em engenharia.
- B) ( ) inscrever-se no CREA.
- C) ( ) trabalhar no CREA ou CONFEA.
- D) ( ) participar da administração do CREA.
- E) ( ) prestar concurso público para o CREA.

### QUESTÃO 41

Exerce ilegalmente a profissão de engenheiro:

- I. a pessoa física ou jurídica que realizar atos ou prestar serviços público ou privado reservados aos profissionais da engenharia e que possua registro nos Conselhos Regionais.
- II. o profissional que se incumbir de atividades estranhas às atribuições discriminadas em seu registro.
- III. o profissional que, suspenso de seu exercício, continue em atividade.

Estão corretos os itens:

- A) ( ) I, somente.
- B) ( ) II, somente.
- C) ( ) II e III, somente.
- D) ( ) I e III, somente.
- E) ( ) I e II, somente.

#### QUESTÃO 42

Os contratos referentes a qualquer ramo da engenharia, quando firmados por entidade pública ou particular, com pessoa física ou jurídica não legalmente habilitada a praticar a atividade de engenharia serão:

- A) ( ) nulos de pleno direito.
- B) ( ) anuláveis.
- C) ( ) válidos *inter partes*.
- D) ( ) válidos *erga omnes*.
- E) ( ) sanáveis.

#### QUESTÃO 43

O prazo para as pessoas jurídicas constituídas prestarem ou executarem serviços ou obras ligadas ao exercício da engenharia requererem seu registro no CREA, após o arquivamento de seus atos constitutivos nos órgãos competentes será de:

- A) ( ) 10 dias.
- B) ( ) 15 dias.
- C) ( ) 20 dias.
- D) ( ) 30 dias.
- E) ( ) 60 dias.

#### QUESTÃO 44

O prazo para concessão de visto ao registro da pessoa jurídica originário de outro Conselho Regional, para a execução de obras ou prestação de serviços, não será superior a:

- A) ( ) 180 dias.
- B) ( ) 30 dias.
- C) ( ) 60 dias.
- D) ( ) 10 dias.
- E) ( ) 15 dias.

#### QUESTÃO 45

São itens obrigatórios do auto de infração lavrado pelo agente incumbido da fiscalização do CREA/CONFEA:

- I. menção à referência constitucional do CREA para fiscalizar o exercício das profissões.
- II. data da ordem de serviços para o agente incumbido da fiscalização efetuar a diligência.
- III. indicação do valor da multa ou sanção pecuniária a ser infligida ao sujeito passivo.

Estão corretos os itens:

- A) ( ) I, somente.
- B) ( ) II, somente.
- C) ( ) III, somente.
- D) ( ) nenhum.
- E) ( ) todos.

### GESTÃO DA QUALIDADE

#### QUESTÃO 46

A NBR ISO 9001 estabelece procedimentos obrigatórios para:

- A) ( ) Aquisição, treinamento, controle de produto não-conforme, ação preventiva, ação corretiva e auditorias internas.

- B) ( ) Avaliação de fornecedores, controle de documentos, controle de registros, auditorias internas, controle de produto não-conforme e ação corretiva.
- C) ( ) Ação corretiva, ação preventiva, controle de documentos, controle de produto não-conforme, controle de registros e auditorias externas.
- D) ( ) Ação corretiva, ação preventiva, controle de documentos, controle de produto não-conforme, controle de registros e auditorias internas.
- E) ( ) Ação corretiva, treinamento, verificação de satisfação do cliente, ação preventiva, controle de registros e auditorias internas.

#### **QUESTÃO 47**

Dentre os registros obrigatórios exigidos pela NBR ISO 9001 estão:

- A) ( ) Registros das análises críticas pela Alta Direção.
- B) ( ) Registros das análises críticas dos requisitos relacionados aos produtos.
- C) ( ) Registros das avaliações dos fornecedores.
- D) ( ) Registros dos resultados de calibração e verificação dos dispositivos de medição e monitoramento.
- E) ( ) Todas as alternativas anteriores.

#### **QUESTÃO 48**

No manual da qualidade de uma organização é apresentada a exclusão do item 7.6 – Controle de dispositivos de medição e monitoramento. A justificativa apresentada fundamenta-se no fato de a empresa ser prestador de serviços e por este motivo não possuir produtos tangíveis de serem medidos ou monitorados. Desta forma, podemos afirmar que:

- A) ( ) cabe à empresa definir o escopo do seu sistema de gestão da qualidade e, portanto, ela pode excluir qualquer requisito que considere difícil de ser implantado e implementado.
- B) ( ) há um equívoco na definição do escopo, pois a norma não permite exclusões.
- C) ( ) este não é um assunto que compete à auditoria interna, uma vez que o manual da qualidade é um documento contratual que só tem interesse para o OCS.
- D) ( ) de acordo com o item 1.2, não há nenhum problema, pois a empresa justificou devidamente a exclusão de um requisito da seção 7 que não se aplica à natureza de sua organização e produto.
- E) ( ) não há nenhum problema, pois qualquer organização pode excluir qualquer requisito, desde que seja na seção 7.

#### **QUESTÃO 49**

A identificação e rastreabilidade, item 7.5.3, significa:

- A) ( ) Definir as etapas de medição do produto e registrar os resultados.
- B) ( ) Controlar somente os materiais usados na realização do produto.
- C) ( ) Quando aplicável, o controle, registro e identificação única do produto.
- D) ( ) A identificação do produto final.
- E) ( ) A identificação do fornecedor da matéria prima.

#### **QUESTÃO 50**

Auditorias de Sistema de Gestão da Qualidade são utilizadas para verificar:

- A) ( ) O número de pessoas trabalhando no contrato.
- B) ( ) Em que medida os critérios acordados são cumpridos.
- C) ( ) Se todos os fornecedores da organização tem certificação ISO 9001.
- D) ( ) Todas as opções acima.
- E) ( ) Nenhuma das opções acima.